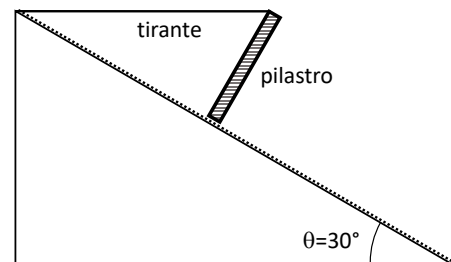


Ingegneria Civile e Ingegneria dell'Ambiente e del Territorio  
3 settembre 2024 – prova scritta di Fisica 1

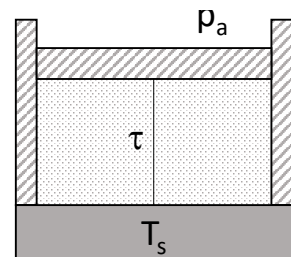
1) Un blocco di massa  $M_1 = 4 \text{ kg}$  è appoggiato sopra un altro scabro blocco di massa  $M_2 = 10 \text{ kg}$ , posto a sua volta su di un tavolo orizzontale anch'esso scabro. Al corpo 2 inferiore viene applicata una forza orizzontale  $F=70 \text{ N}$  tale da far muovere i due blocchi solidalmente con accelerazione  $a=3 \text{ m/s}^2$ . Calcolare l'attrito che si esercita tra i due blocchi e tra il blocco 2 il suolo.

2) Un'asta omogenea di massa  $m = 200 \text{ g}$  e lunghezza  $d = 70 \text{ cm}$  è vincolata a ruotare intorno ad un suo estremo  $O$  su un piano orizzontale perfettamente liscio. Nell'estremo  $O$  è applicato un motore che esercita un momento costante  $\vec{M}_0 = M_0 \hat{k}$  ( $M_0 = 0,07 \text{ Nm}$ ). Il motore è fatto funzionare per  $t_1 = 30 \text{ s}$  e poi spento. Determinare A) la velocità angolare dell'asta nell'istante in cui viene spento il motore e B) la potenza media consumata dal motore.

3) Un pilastro di calcestruzzo alto  $2 \text{ m}$ , piccolo di base (considerarlo unidimensionale) e massa  $1200 \text{ kg}$ , è appoggiato su un piano scabro inclinato di  $30^\circ$  rispetto all'orizzontale. Per reggerlo nella posizione verticale rispetto al piano, la sommità è collegata ad un tirante orizzontale. Calcolare: la forza esercitata dal tirante, l'attrito sotto il pilastro e la reazione del piano inclinato.



4) Un recipiente cilindrico adiabatico, la cui base ha un'area  $A=0,5 \text{ m}^2$ , è posto verticalmente e contiene 2 moli di un gas perfetto monoatomico alla temperatura  $T_0=300\text{K}$ . La parte superiore del cilindro è chiusa da un pistone adiabatico di massa  $m=100\text{kg}$ , a perfetta tenuta che può scorrere senza attrito. Il pistone è collegato alla base inferiore tramite un filo inestensibile di massa trascurabile il cui carico di rottura è  $\tau=1220\text{N}$ . Inizialmente il sistema cilindro si trova all'equilibrio con l'ambiente esterno alla pressione di  $p_a=0,1 \text{ atm}$ : in queste condizioni il filo è teso ma con tensione nulla. Ad un certo istante l'isolamento adiabatico della faccia inferiore viene rimosso e il gas interno inizia a scambiare calore con una sorgente alla temperatura  $T_s$ , finché il filo interno non si spezzerà. Considerando la trasformazione subita dal gas dallo stato di equilibrio iniziale fino a quello finale che precede la rottura del filo, si calcoli: A) il calore scambiato dal gas, B) la temperatura  $T_s$  della sorgente sapendo che l'entropia dell'universo è variata di  $\Delta S_U=0,8 \text{ J/K}$ . ( $1 \text{ atm}=101325 \text{ N/m}^2$ ,  $R=8,2057 \times 10^{-5} \text{ m}^3 \text{ atm K}^{-1} \text{ mol}^{-1}$ ).



5) La macchina termica operante in una centrale termoelettrica da  $P=500 \text{ MW}$  di potenza elettrica d'uscita può essere schematizzata come una macchina di Carnot operante tra  $T_1=550\text{K}$  e  $T_2=330\text{K}$ . Determinare: A) la potenza termica assorbita dalla sorgente termica  $T_1$ ; B) la potenza termica ceduta alla sorgente termica  $T_2$ .

## Ingegneria Civile e Ingegneria dell'Ambiente e del Territorio

3 settembre 2024 – Soluzioni dello scritto di Fisica 1

1) Calcoliamo il bilancio delle forze e agiscono sul corpo 1 e sul corpo 2:

$$\vec{P}_1 + \vec{R}_{12} + \vec{A}_{12} = M_1 \vec{a}$$

$$\vec{P}_2 + \vec{R}_{21} + \vec{R}_2 + \vec{A}_{21} + \vec{A}_2 + \vec{F} = M_2 \vec{a}$$

dove  $R_{12} = R_{21} = R_1$ , e  $A_{12} = A_{21} = A_1$ .

Scomponiamo le equazioni in direzione orizzontale:

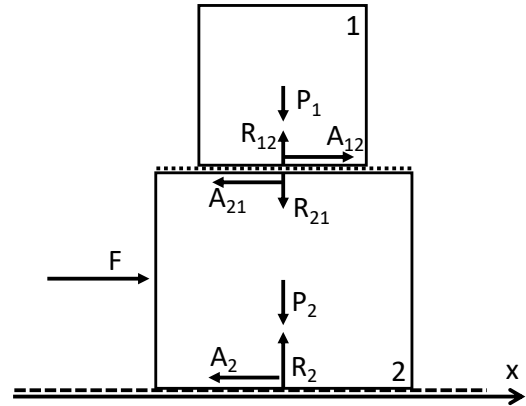
$$M_1 a = A_1$$

$$M_2 a = F - A_1 - A_2$$

Da cui:

$$A_1 = M_1 a = 12 \text{ N}$$

$$A_2 = F - (M_1 + M_2) a = 28 \text{ N}$$



2A) Possiamo applicare la seconda equazione cardinale della dinamica:

$$I \alpha = M_0 \rightarrow \alpha = \frac{M_0}{I} \rightarrow \alpha = \frac{3M_0}{md^2},$$

ricordando che

$$I = \frac{1}{3} md^2.$$

Quindi la velocità angolare di B vale:

$$\omega = \alpha t = \frac{M_0}{I} t = \frac{3M_0}{md^2} t = 64,3 \text{ rad/s}$$

2P) La potenza media può essere calcolata come rapporto tra il lavoro compiuto e il tempo impiegato, avendo calcolato il lavoro come la variazione dell'energia cinetica:

$$Potenza = \frac{L}{t} = \frac{\Delta T}{t} = \frac{I \omega^2}{2t} = \frac{I}{2t} \cdot \frac{M_0^2 t^2}{I^2} = \frac{3M_0^2 t}{2md^2} = 2,25 \text{ W}$$

3) Applichiamo le equazioni cardinali della dinamica in regime statico:

$$\vec{T} + \vec{P} + \vec{R} + \vec{A} = 0$$

$$\vec{M}_P + \vec{M}_T = 0$$

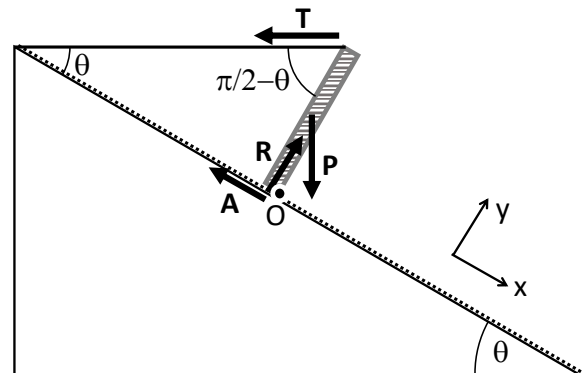
(rispetto al polo di rotazione O).

Scomponendo rispetto a x,y si ha:

$$P \sin \theta - A - T \cos \theta = 0$$

$$R - P \cos \theta - T \sin \theta = 0$$

$$hT \sin \left( \frac{\pi}{2} - \theta \right) - \frac{h}{2} P \sin \theta = 0$$



Risolvendo si ottiene:

$$T = \frac{P}{2} \tan \theta = 3398 \sim 3400 \text{ N}$$

$$A = \frac{P}{2} \sin \theta = 2943 \sim 2950 \text{ N}$$

$$R = P \left( \cos \theta + \frac{1}{2} \tan \theta \sin \theta \right) = 11894 \sim 11900 \text{ N}$$

**4A)** Inizialmente (con il filo teso ma senza tensione), la pressione interna sarà:

$$p_0 = p_a + \frac{mg}{A} = 12090 \frac{\text{N}}{\text{m}^2} \sim 0,12 \text{ atm} \sim 12,09 \text{ KPa}$$

A questa pressione è associata una temperatura  $T_0$  e un volume:

$$V_0 = \frac{nRT_0}{p_0} = 0,412 \text{ m}^3$$

Esattamente nel momento in cui avverrà la rottura del filo, la pressione interna del gas sarà bilanciata sia dalla pressione esterna ambiente, sia dal peso del pistone sia dal filo:

$$p = p_a + \frac{mg}{A} + \frac{\tau}{A} = 14490 \frac{\text{N}}{\text{m}^2} \sim 0,143 \text{ atm} \sim 14,49 \text{ KPa}.$$

Tuttavia il volume sarà sempre lo stesso,  $V = V_0$  mentre la temperatura sarà:

$$T = \frac{pV_0}{nR} = 359 \text{ K}$$

Il calore scambiato lungo questa trasformazione isocora sarà quindi:

$$Q = n c_v (T - T_0) = 1476 \text{ J}$$

**4B)** L'entropia dell'universo varia sia la variazione di entropia del gas sia per la variazione di entropia della sorgente:

$$\Delta S_U = \Delta S_{gas} + \Delta S_S = n c_v \ln \frac{T}{T_0} + \frac{Q}{T_S}$$

Pertanto:

$$T_S = \frac{Q}{n c_v \ln \frac{T}{T_0} - \Delta S_U} = 401 \text{ K}.$$

**5A)** Essendo una macchina di Carnot, il rendimento può essere scritto come:

$$\eta = 1 - \frac{T_2}{T_1} = \frac{L}{Q_1}$$

Moltiplicando e dividendo per il tempo su ha:

$$\eta = 1 - \frac{T_2}{T_1} = \frac{\frac{L}{t}}{\frac{Q_1}{t}} = \frac{P_{elettrica}}{P_1}$$

Pertanto la potenza termica scambiata con la sorgente  $T_1$  sarà:

$$P_1 = \frac{P_{elettrica}}{\eta} = \frac{P_{elettrica}}{1 - \frac{T_2}{T_1}} = 1,25 \text{ GW}$$

**5B)** Poiché il lavoro totale della macchina è numericamente uguale alla somma algebrica dei calori scambiati, dividendo per il tempo si ottiene una equivalente relazione per le potenze:

$$L = Q_1 + Q_2 \quad \rightarrow \quad P_{elettrica} = P_1 - P_2 \quad \rightarrow \quad P_2 = P_1 - P_{elettrica} = 750 \text{ MW}$$